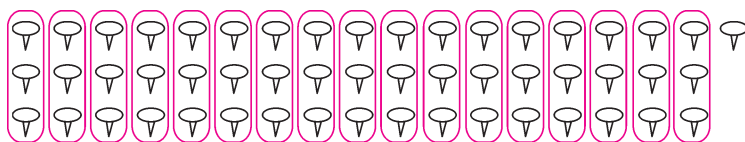


达标测试卷

题号	一	二	三	四	五	六	七	八	总分
得分									


一、按要求做一做。(13分)

1. 圈一圈,数一数。(2分)



一共有(52)枚图钉。

2.



(1) 估一估上图大约有多少朵花。在合适答案后面画“√”。(2分)

30 朵 ☐50 朵 ☒70 朵 ☐

(2) 圈一圈,10朵10朵地圈,有(5)个10朵,还剩(4)朵,共有(54)朵。(3分)

3. 选一选,填一填。(6分)

45 30 58 60 72 73 80 85 89 95 100

30 60
80 100

个位上是0的数

45 85
95

个位上是5的数

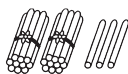
58 60 72
73 80 85
89

50~90之间的数

二、看图写数。(8分)



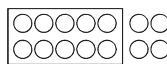
(50)



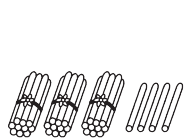
(23)



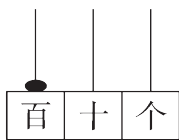
(40)



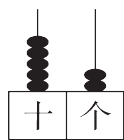
(14)



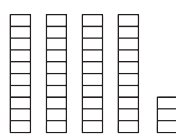
(34)



(100)

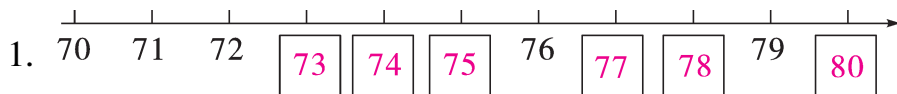


(52)



(43)

三、想一想,填一填。(24 分)



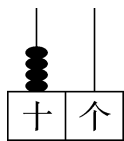
2. 四十八写作(48),八十写作(80)。

3. 5 个十和 8 个一合起来是(58),10 个十是(100)。

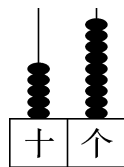
4. 66 中,左边的 6 表示(6 个十),右边的 6 表示(6 个一)。

5. 与 90 相邻的两个数分别是(89, 91),49 和 53 之间的数是(50, 51, 52)。

6.



在十位上加 1 个珠子后,
表示的数是(50)。



在个位上加 1 个珠子后,
表示的数是(60)。

7. 68 前面的第 4 个数是(64),75 后面的第 5 个数是(80)。

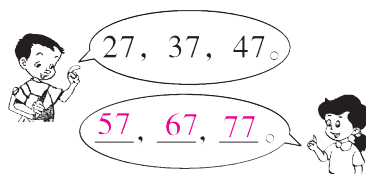
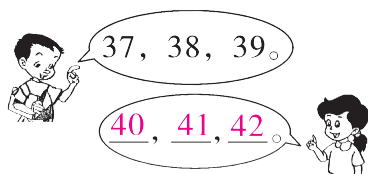
8. 最大的两位数是(99),最小的两位数是(10)。

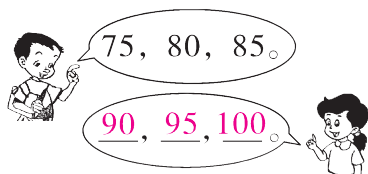
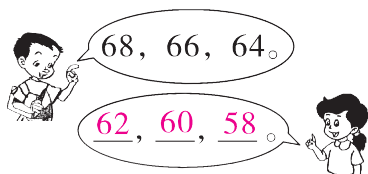
9. 一个两位数,个位上的数字是 4,十位上的数字比个位上的数字多 3,这个数是(74)。

10. 从 1 写到 100,一共写了(20)个“2”。

11. 30 里面有(3)个十,7 个十是(70)。

四、数数接力赛。(12 分)





五、比一比,我能行。(14 分)

1. 圈出每组中较大的数。(2 分)

41 45

68 78

57 66

100 99


2. 在()里填上合适的数。(7 分)

48 < (49) 39 > (31) 63 < (70) < 74

78 > (75) 89 < (90) 100 > (97) > (95)

(答案不唯一)

3. 请把欢欢一家人的年龄按从大到小的顺序排列。(5 分)



70 岁 > 65 岁 > 38 岁 > 34 岁 > 6 岁

六、猜一猜。(8 分)

1.



②号车可能运了多少筐? 画“√”。③号车可能运了多少筐? 画“○”。

28 筐	60 筐	68 筐	100 筐
√			


28 筐	60 筐	68 筐	100 筐
		○	

2. 小丽的爸爸今年 39 岁,她妈妈的年龄和爸爸的年龄差不多,小丽的妈妈今年可能多少岁? 画“○”。

45 岁	25 岁	38 岁
		○

七、细心算一算。(12分)

1. 孔雀开屏。(6分)



2. 在○里填上“>”“<”或“=”。(6分)

$62-2 \text{ (} = \text{)} 60$

$26 \text{ (} > \text{)} 20+5$

$55-50 \text{ (} < \text{)} 55-5$

$30 \text{ (} < \text{)} 30+7$

$4+50 \text{ (} = \text{)} 50+4$

$69-9 \text{ (} < \text{)} 60+9$

八、解决问题。(9分)

1. (4分)



已经有30名乘客下车了, 还有6名没下车。车上一共载了多少名乘客?

【答案】 $30+6=36$ (名)

口答: 车上一共载了36名乘客。

2. (创新题) 小明和同学比赛扔飞镖, 扔了两次都扎到靶上了。你知道他两次可能共得了多少分吗?(5分)

【答案】 $15+10=25$ (分) $15+5=20$ (分)

$10+5=15$ (分) $5+5=10$ (分)

$15+15=30$ (分) $10+10=20$ (分)

口答: 他两次可能共得了10分、15分、20分、25分或30分。

